



Das Einmaleins mit 4

1. Ringle immer 4 Stück ein:



$$32 = \underline{\quad} \times 4$$

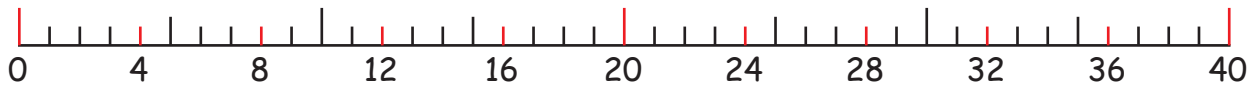


$$16 = \underline{\quad} \times 4$$



$$24 = \underline{\quad} \times 4$$

2. Rechne und überprüfe anschließend:



$$4 \text{ in } 32 = \underline{\quad} \text{ mal, weil } \underline{\quad} \times 4 = 32$$

$$4 \text{ in } 12 = \underline{\quad} \text{ mal, weil } \underline{\quad} \times 4 = 12$$

$$4 \text{ in } 24 = \underline{\quad} \text{ mal, weil } \underline{\quad} \times 4 = 24$$

$$4 \text{ in } 20 = \underline{\quad} \text{ mal, weil } \underline{\quad} \times 4 = 20$$

$$4 \text{ in } 40 = \underline{\quad} \text{ mal, weil } \underline{\quad} \times 4 = 40$$

$$4 \text{ in } 36 = \underline{\quad} \text{ mal, weil } \underline{\quad} \times 4 = 36$$

$$4 \text{ in } 8 = \underline{\quad} \text{ mal, weil } \underline{\quad} \times 4 = 8$$

$$4 \text{ in } 16 = \underline{\quad} \text{ mal, weil } \underline{\quad} \times 4 = 16$$

3. Teile durch vier und überprüfe anschließend:

$$24 : 4 = \underline{\quad}, \text{ weil } \underline{\quad} \times 4 = 24$$

$$16 : 4 = \underline{\quad}, \text{ weil } \underline{\quad} \times 4 = 16$$

$$8 : 4 = \underline{\quad}, \text{ weil } \underline{\quad} \times 4 = 8$$

$$4 : 4 = \underline{\quad}, \text{ weil } \underline{\quad} \times 4 = 4$$

$$20 : 4 = \underline{\quad}, \text{ weil } \underline{\quad} \times 4 = 20$$

$$40 : 4 = \underline{\quad}, \text{ weil } \underline{\quad} \times 4 = 40$$

$$12 : 4 = \underline{\quad}, \text{ weil } \underline{\quad} \times 4 = 12$$

$$32 : 4 = \underline{\quad}, \text{ weil } \underline{\quad} \times 4 = 32$$

4. Vergleiche die Ergebnisse und setze die Zeichen >, < und = ein:

$$3 \times 4 \bigcirc 14$$

$$1 \times 4 \bigcirc 5$$

$$2 \times 4 + 7 \bigcirc 17$$

$$6 \times 4 \bigcirc 8 \times 3$$

$$8 \times 4 \bigcirc 29$$

$$7 \times 4 \bigcirc 26$$

$$5 \times 4 + 12 \bigcirc 31$$

$$10 \times 4 \bigcirc 9 \times 5$$

$$2 \times 4 \bigcirc 11$$

$$9 \times 4 \bigcirc 38$$

$$9 \times 4 - 5 \bigcirc 29$$

$$3 \times 4 \bigcirc 7 \times 2$$

$$10 \times 4 \bigcirc 39$$

$$5 \times 4 \bigcirc 18$$

$$7 \times 4 + 14 \bigcirc 38$$

$$8 \times 4 \bigcirc 9 \times 3$$

$$4 \times 4 \bigcirc 16$$

$$6 \times 4 \bigcirc 23$$

$$4 \times 4 - 7 \bigcirc 9$$

$$1 \times 4 \bigcirc 2 \times 2$$

5. Vervollständige die 4er-Reihe:

Fällt dir etwas auf? Vergleiche die obere Reihe mit der unteren. Was ist gleich? Und warum ist das so?

