
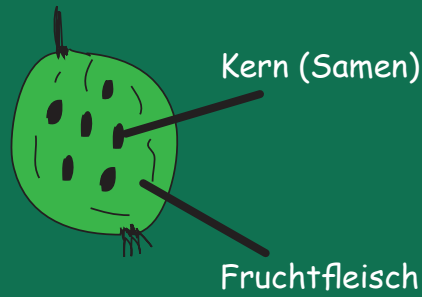


Unser Obst

Schalenobst



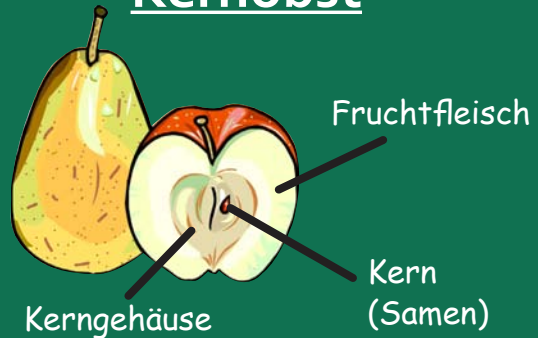
Beerenobst



Steinobst



Kernobst



1 Ergänze die richtige Obstart:

Kernobst

Schalenobst

Steinobst

Beerenobst

Der Kern (Same) ist von saftigem Fruchtfleisch umgeben. _____

Die Samen liegen lose im saftigen Fruchtfleisch. _____

Dieses Obst hat ein Kerngehäuse welches von Fruchtfleisch umgeben ist. _____

Der Fruchtkern ist von einer harten, meist holzigen Schale umgeben. _____

2 Ordne die verschiedenen Früchte in die richtige Spalte der Tabelle ein:

Walnuss Apfel Erdbeere Haselnuss Himbeere Pfirsich Weintraube
 Brombeere Kirsche Marille Zwetschke Kastanie Birne

Schalenobst	Steinobst	Beerenobst	Kernobst