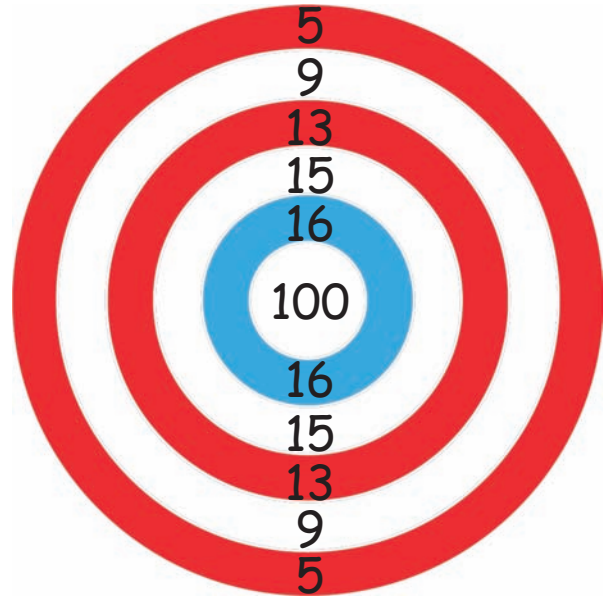
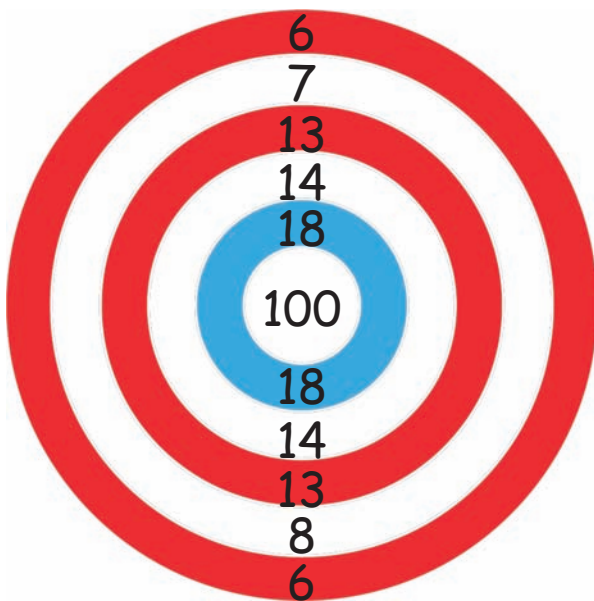




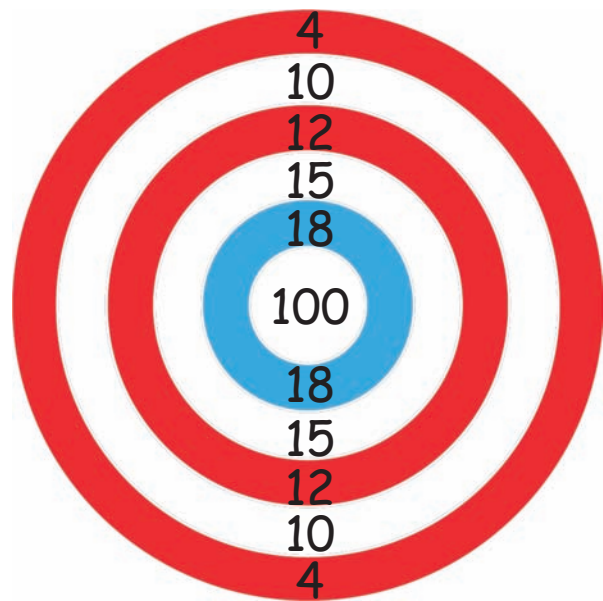
Ein Indianer hat mit Pfeil und Bogen 9 mal auf eine Zielscheibe geschossen, aber leider nie die Mitte getroffen. Wie hat er trotzdem die Summe 100 erreicht? Es sind immer mehrere Lösungen möglich. Schreibe für jede Zielscheibe einen möglichen Lösungsvorschlag auf.



Lösungsvorschlag:
2x5, 2x9, 2x13, 2x15, 1x16



Lösungsvorschlag:
3x6, 1x7, 3x13, 2x18



Lösungsvorschlag:
2x4, 2x10, 3x12, 2x18