

Zeiteinheiten: Stunden - Minuten

1. Vergleiche Stunden und Minuten:

Josef braucht 1 Stunde um mit dem Fahrrad von ihm zu Hause zu seiner Oma zu fahren.

Karin braucht für die selbe Strecke nur 60 Minuten.

Wer von den beiden braucht länger für die Strecke? Keiner. Sie brauchen beide gleich lang.

2. Wie viele Minuten hat eine Stunde?

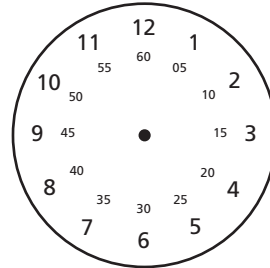
Eine Stunde hat 60 Minuten.

Eine Viertelstunde hat 15 Minuten.


Eine Dreiviertelstunde hat 45 Minuten.

Eine halbe Stunde hat 30 Minuten.

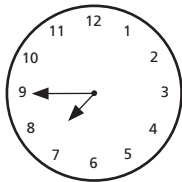
Eineinhalb Stunden haben 90 Minuten.



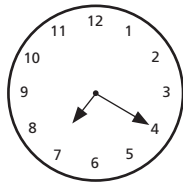
3. Wie viele Minuten sind jeweils seit 19 Uhr vergangen? Schreibe die Uhrzeit auf.




19.10 Uhr




19.45 Uhr



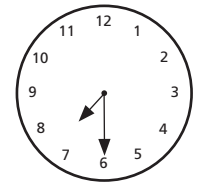
19.20 Uhr



19.55 Uhr



19.05 Uhr

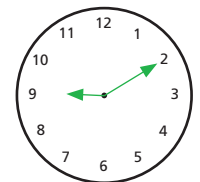
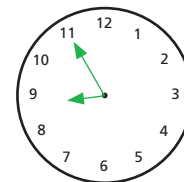
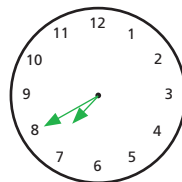
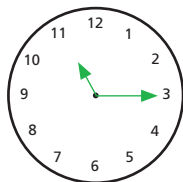
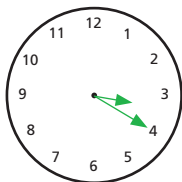
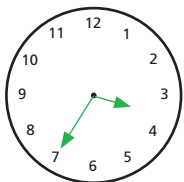


19.30 Uhr

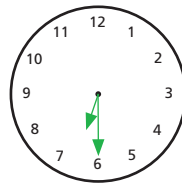
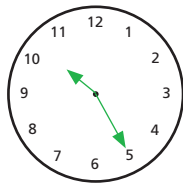
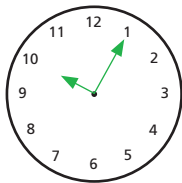
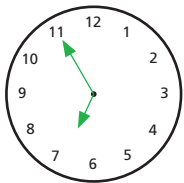
4. Der Radio hat eine Digitalanzeige. Zeichne die Zeitangaben in die Uhren ein.

Für jede richtig gelöste Aufgabe bekommst du einen Punkt.

15 : 35 03 : 20 23 : 15 19 : 40 20 : 55 09 : 10



06 : 55 10 : 05 22 : 25 18 : 30



17 : 15 14 : 50 19 : 50 21 : 25

