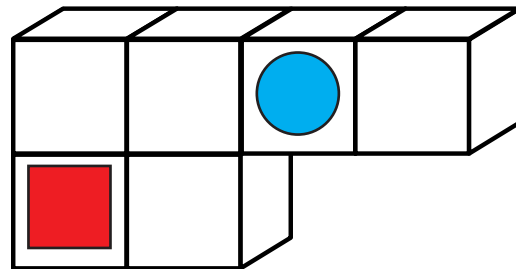
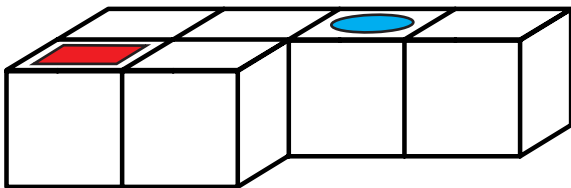
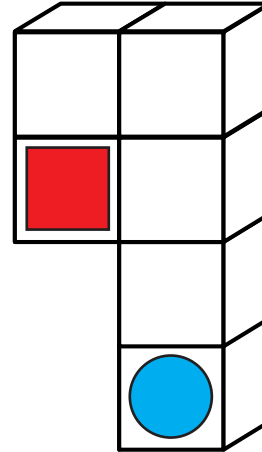
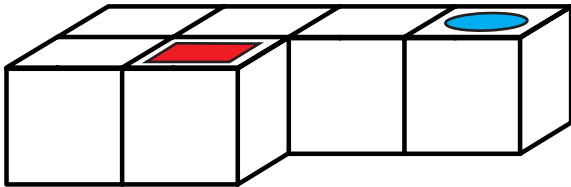


Perspektivisch denken und Zahlenquiz

1

Hier siehst du auf dem linken Körper jeweils verschiedene Formen. Übertrage sie auf die rechten Körper. Du musst ein wenig umdenken!



2

Versuche aus den 3 folgenden Ziffern möglichst viele dreistellige Zahlen zu bilden, schreibe alle die du findest auf die Zeilen rechts daneben!

3 5 0

350, 305, 530, 503

Man kann 4 dreistellige Zahlen bilden.

9 7 4

974, 947, 749, 794, 497, 479

Man kann 6 dreistellige Zahlen bilden.