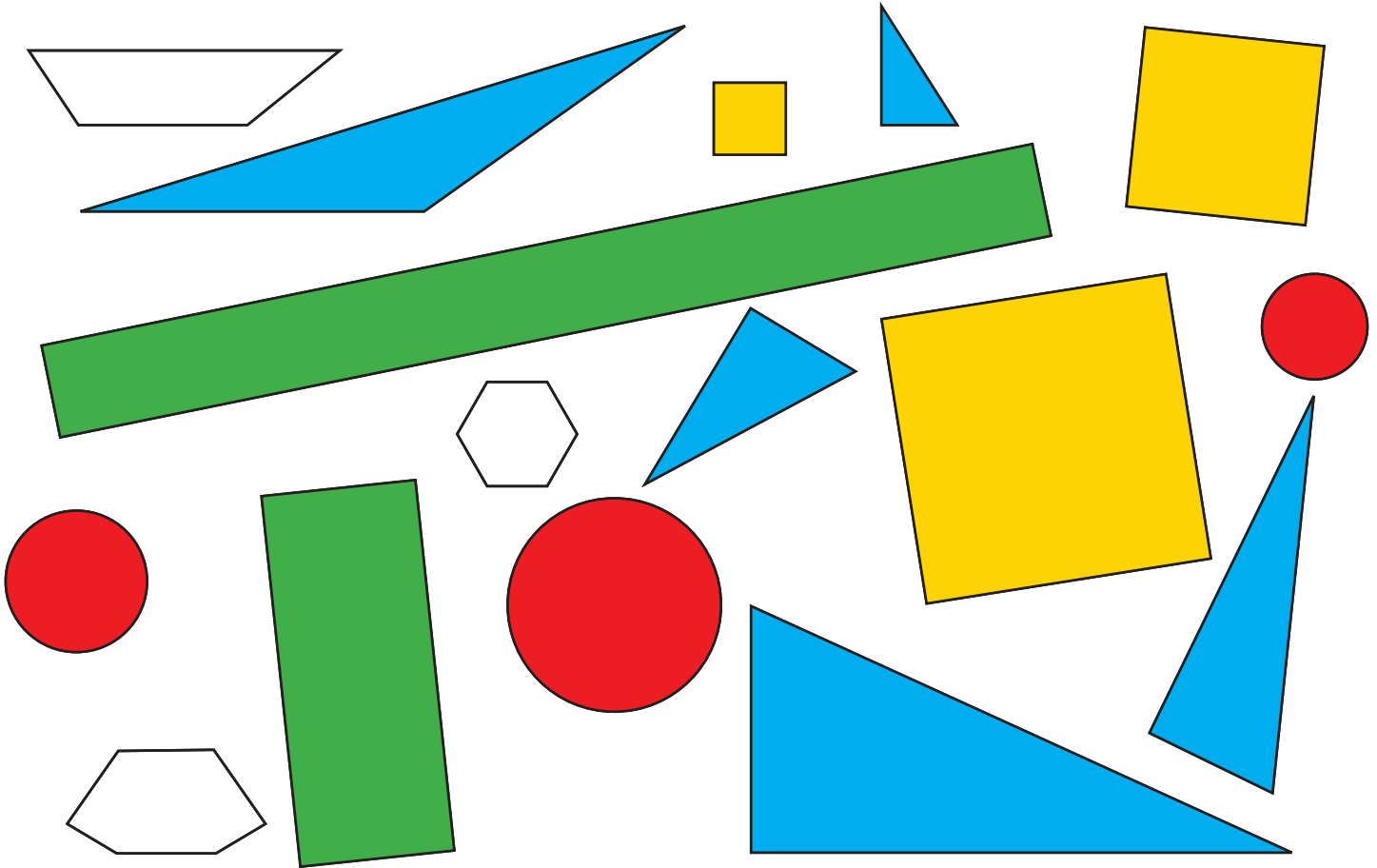


# FLÄCHEN UNTERSCHIEDEN

- 1 Du siehst hier viele verschiedene Flächen!  
 Male alle **Quadrate gelb**, alle **Rechtecke grün**, alle **Dreiecke blau** und alle **Kreise rot** an!



Anzahl der Quadrate:   3  

Anzahl der Dreiecke:   5  

Anzahl der Rechtecke:   2  

Anzahl der Kreise:   3  

- 2 Schau dich in deiner Klasse um und versuche vier Gegenstände zu folgenden Flächen zu finden!

Quadrat:   Tisch, Fenster, Tafelschwamm, Computerbildschirm, ...  

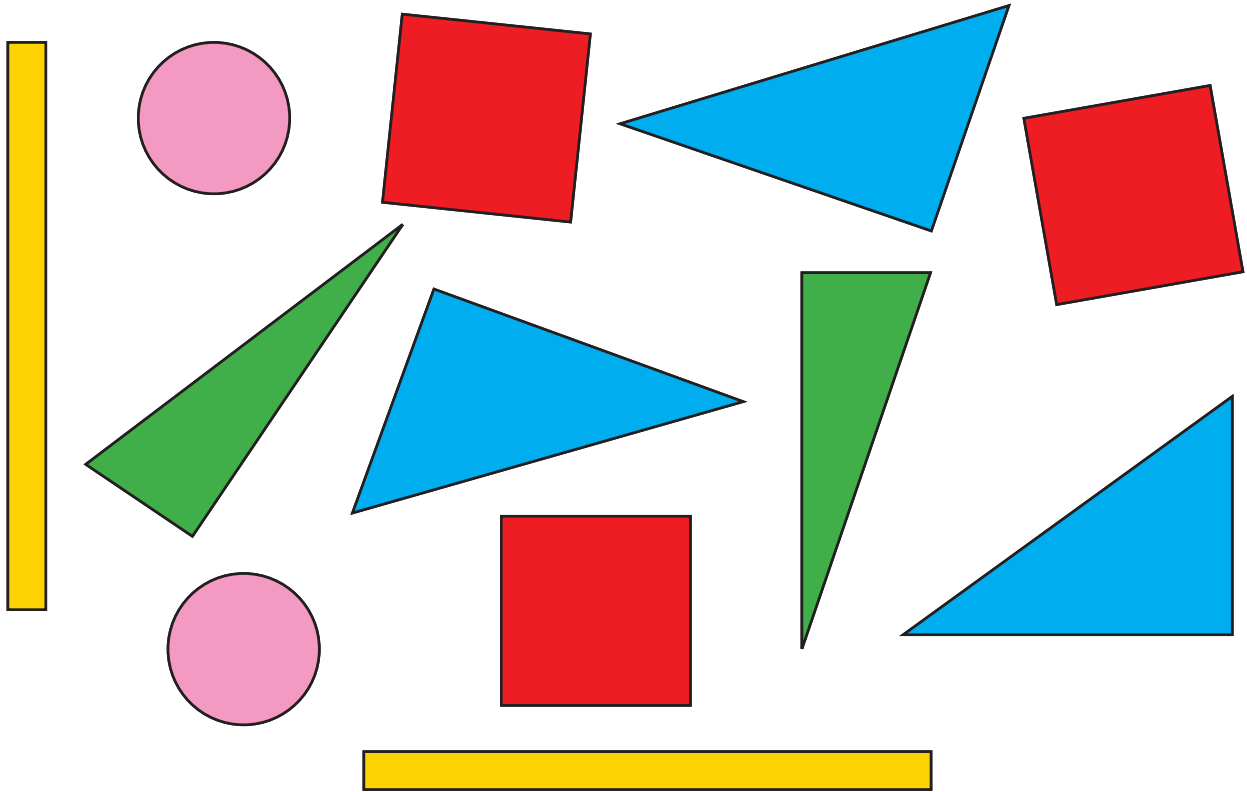
Rechteck:   Heft, Spiegel, Buch, Tafeltuch, Pinnwand, Tisch, ...  

Dreieck:   Geo-Dreieck, Fenster, ...  

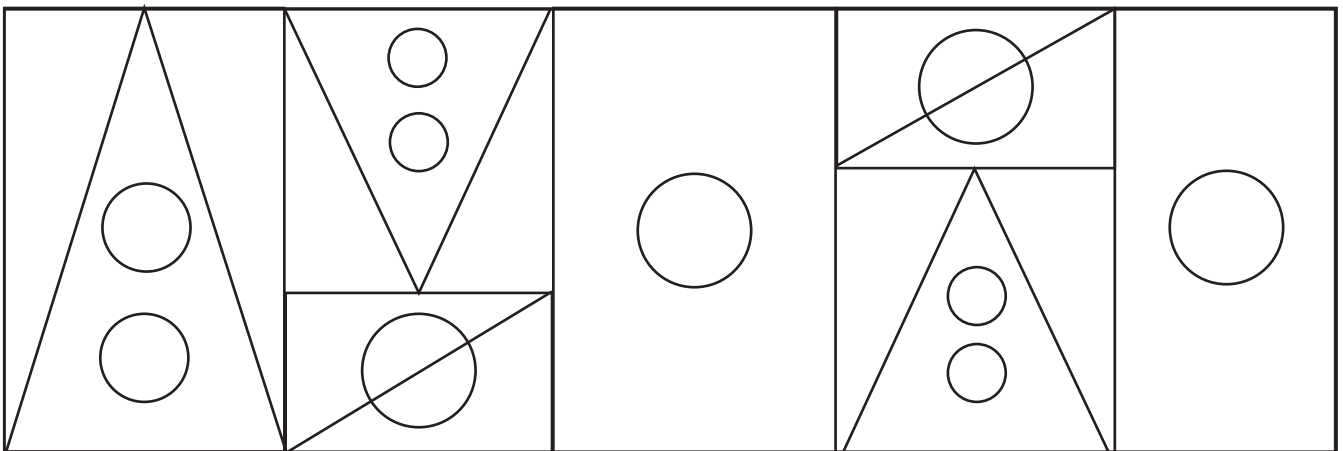
Kreis:   Spiegel, Magnet, Uhr, ...

## FLÄCHEN UNTERSCHIEDEN

**3** Male die Flächen, die gleich groß sind, mit derselben Farbe an!



**4** Wie viele Vierecke, Dreiecke und Kreise kannst du erkennen?  
 Tip: Fahre die Flächen mit einem Bleistift nach und notiere jede einzelne Figur.



Anzahl der Vierecke: 8      Anzahl der Dreiecke: 13      Anzahl der Kreise: 10