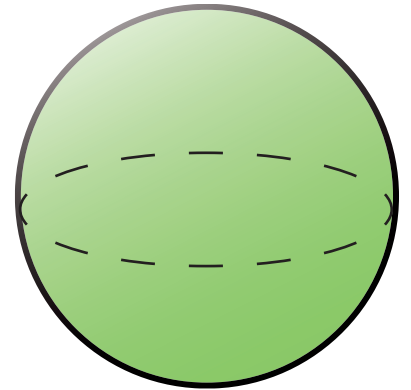


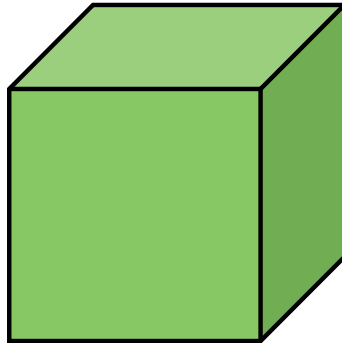


Körperformen

Benenne die folgenden Körperformen:



Kugel

Quader

Pyramide

Würfel


Kegel

Zylinder

Schau dir die Körperformen ganz genau an und gib Gemeinsamkeiten und Unterschiede von folgenden Körperformen an!

	Gemeinsamkeiten	Unterschiede
Quader und Würfel		
Zylinder und Kegel		
Pyramide und Kegel		

Welche Körperformen wurden hier als Stempel verwendet? (Es gibt mehrere Möglichkeiten!)





Beantworte folgende Fragen über den Quader:

Wie viele Ecken hat ein Quader? _____

Wie viele Kanten hat ein Quader? _____

Welche Grundfläche hat ein Quader? _____

